

Tarix üzrə test

Təlimat

Qarşınızdakı imtahan testinin elektron bukletidir.

Testin hər bir tapşırığının təlimatı ilə diqqətlə tanış olun, hər bir tapşırığın tələbini yaxşı düşünün və sonra işə başlayın.

Testin maksimum xalı - 60

Testin üzərində işləmək üçün sizə 5 saat vaxt verilir

Sizə uğurlar arzulayırıq!

1-24№-li tapşırıqlar üçün təlimat. Hər suala ehtimal olunan dörd cavab verilmişdir. Onlardan yalnız biri düzgündür. Sizin seçdiyiniz cavabı işarə etməyin yeganə yolu cavablar vərəqindəki müvafiq xanada X işarəsi qoymaqdır. Heç bir başqa qeyd, üfüqi yaxud şaquli xətlər, dairəyə almaq və s. elektron proqramı tərəfindən qəbul edilmir. Əgər cavablar vərəqində işarə edilmiş cavabı düzəltmək istəyirsinizsə, xananı bütövlüklə rəngləyin və ona X işarəsi qoyun, sonra cavabın yeni variantını işarə edin (yeni xanada X işarəsi qoyun). Düzəltdiyiniz cavabı təkrarən seçmək qeyri-mümkündür. Hər tapşırığa 1 xal verilir.

1. Hiksoslar hansı çarlığı işğal etdilər?

ɔ. Asureti

ð. Babil

ɢ. Misir

ϣ. Xetlər

2. Şəkildə təqdim olunan hansı sivilizasiya abidəsidir?



ა. Əhəmənilər

ბ. Misir

გ. Etrusk

დ. Minos

3. Yunanlar hansı dənizi “Pont ekvinosu” adlandırırdılar?

α. Ege dənizini

β. İon dənizini

γ. Aralıq dənizini

δ. Qara dənizi

4. Qədim Yunanıstanda tarix hesabı nə ilə əlaqələndirilirdi?

- Ⓚ. Olimpiya oyunları ilə
- Ⓛ. Troyanın alınması ilə
- Ⓜ. Afinanın əsasının qoyulması ilə
- Ⓨ. Delfosta Samisnonun alınması ilə

5. Romada mülki müharibələr dövrü kimlər arasında qarşıdurma ilə başlanırdı?

- Ⓐ. Sula və Pompey arasında
- Ⓑ. Qeysər və Sertori arasında
- Ⓒ. Marius və Sula arasında
- Ⓓ. Brutus və Qeysər arasında

6. İmperator Trayanın fəaliyyətinin başlıca nəticələrindən biri nə idi?

- Ⓚ. Dakların məğlub edilməsi
- Ⓛ. Pont çarlığının darmadağın edilməsi
- Ⓜ. Tevtoburqun döyüşdə qələbəsi
- Ⓨ. Sonuncu Ellin dövlətinin işğal edilməsi

7. Xeyirxah Farsman dövründə Kartli çarlığının güclənmə göstəricisini nə hesab edə bilərik?

- ა. Köçəri skiflərin hücumlarının qarşısının alınması
- ბ. Klarcetinin birləşdirilməsi və Artanucun əsasının qoyulması
- გ. Coroxinin mənəbi yaxınlığında dənizin sahil zolağına sahib olunması
- დ. Fazisin sahillərində olan yeni tikintilərin mövcudluğu

8. Orta əsrlərin əvvəllərində Qərbi Avropada şəhər həyatının pozulmasına nə səbəb oldu?

- Ⓚ. Kollontayın iqtisadi sisteminin tənəzzülü
- Ⓛ. İpək yolunun Şərqlə əvəz edilməsi
- Ⓜ. Bizans imperiyasının zəifləməsi və köçərilərin hücumları
- Ⓨ. Roma imperiyasının tənəzzülü və böyük xalq sürgünü

9. VI əsrin ortalarında Kartlidə çarlığın ləğv edilməsini hansı ədəbi abidə təsdiq edir?

- ა. Konstanti-Kaxiyə əzab verilməsi
- ბ. Serapion Zarzmelinin həyatı
- გ. Evstati Mtsxeteliyə işgəncə verilməsi
- დ. Gürcülərin və ermənilərin parçalanması

10. Şiələr sünnilərdən onunla fərqlənirlər ki, onlar:

- ɔ. Hicri tarixini Məhəmmədin vəfat etdiyi gündən hesablayırlar
- ɔ. İlk dörd xəlifə arasında yalnız Əlini tanıyırlar
- ɔ. Quranın bir neçə surəsini qəbul etmirlər
- ɔ. Məkkəni Həcc ziyarəti ilə əlaqələndirmirlər

11. Səlcuqlar işğal yürüşlərinə başlayarkən ilk dəfə kiminlə vuruşmalı oldular?

- Ⓐ. Bağdad xəlifəliyi ilə
- Ⓑ. Bizans imperiyası ilə
- Ⓒ. Sasanilər çarlığı ilə
- Ⓓ. Qəznəvilər dövləti ilə

12. Qriqol Bakurianisdze Bizans imperiyasının adından çar II Giorgiyə nə verdi?

ა. Anakopiya qalasını

ბ. Kurapalat rütbəsini

გ. Kari qala-şəhərini

დ. Magistros titulumu

13. XII əsrdə Gelati akademiyasında hansı məşhur gürcü mütəfəkkiri fəaliyyət göstərirdi?

ა. Kiçik Yefrem

ბ. İohan Petritsi

გ. Ekvtime Mtasmindeli

დ. Proxor Kartveli

14. Betaniya məbədinin freskasında çariça Tamarla birlikdə kimlər əks etdirilmişdir?

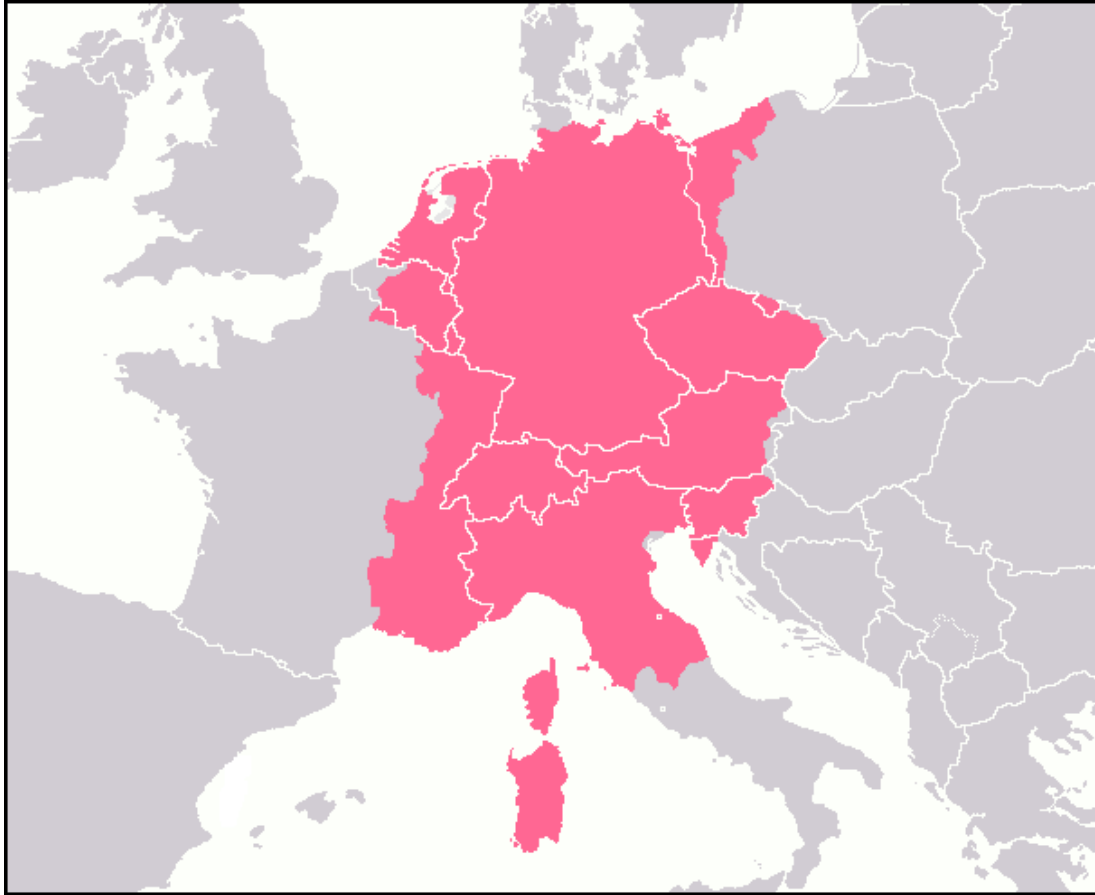


- ა. I Demetre və III Giorgi
- ბ. III Giorgi və IV Giorgi
- გ. III Giorgi və David Soslan
- დ. IV Giorgi və David Soslan

15. Başqa səbəblərlə yanaşı səlibçilər tərəfindən Konstantinopolun alınmasına nə səbəb oldu?

- ɹ. Hanza ittifaqının ultimatumu
- ð. Genuya ilə bağlanmış müqavilə
- ƒ. Latınlar imperiyasının tələbi
- ϣ. Venesiyanın ticarət mənafehləri

16. Xəritədə hansı dövlətin güclənməsi dövrü əks etdirilmişdir?



- Ⓚ. Reyn ittifaqının
- Ⓛ. Franklar çarlığının
- Ⓜ. İlahi Roma imperiyasının
- Ⓨ. Avstriya-Macaristan imperiyasının

17. “Biz çarlar çarı Giorgi bu müəyyən abidəni dağlılara nəzər salmağa başladığımız dövrdə ucaltmışıq... və bizə aydın oldu ki, bir-birimizə qarşı münasibətdə böyük qanunsuzluğa və zorakılığa yol verilir, qanunun yüngüllüyü, bir-birinə xaincəsinə hücum, qalaların dağıdılması, adam öldürülməsi, arvadların oğurlanması və günahsız, çoxcəhətli ulusluq hökm sürürdü və ədalət tamamilə yox idi”.

Gürcü hüququnun bir abidəsinin yuxarıda göstərilmiş bir parçasında təsvir olunmuş vəziyyətin başlıca səbəbi nə idi?

- ა. Feodalların üsyanları nəticəsində çar hakimiyyətinin zəifləməsi
- ბ. Monqolların Şərqi Gürcüstanda uzun sürən ağalığı
- გ. İrənlilər tərəfindən çarlığın ləğv edilməsi nəticəsində yaranmış anarxiya
- დ. Dağıstanlı feodalların lekianoba adlandırılan tez-tez baş verən hücumları

18. Monqolların aǵalıǵı dövründə Moskva knyazlıǵının güclənməsinə başqa səbəblərlə yanaşı nə imkan yaratdı?

- а. Aleksandr Nevskinin fəaliyyəti
- б. Oprіçninanın tətbiqi
- в. Vladimir Monomaxın islahatları
- г. Mitropolitin iqamətgahının başqa yerə köçürülməsi

19. XVI əsrdə Fransanın və Osmanlının siyasi ittifaqına nə imkan yaradırdı?

- ə. Habsburqların qüdrəti və sahib olduğu sərvətin çoxluğu
- ə. Mərkəzi Avropada mediçilərin fəallaşması
- ç. İtaliyanın savoyi sülaləsi tərəfindən birləşdirilməsi
- ç. Almaniyanın Hohensolernlərin rəhbərliyi altında güclənməsi

20. XVI Luinin dövründə Fransada yaranmış iqtisadi böhranın səbəbləri nə idi?

- Ⓐ. Yalnız üçüncü zümrə tərəfindən vergi verilməsi
- Ⓑ. Otuzillik müharibə ilə əlaqədar çox böyük xərclər
- Ⓒ. Müxtəlif təbəqələr arasında islahatların doğurduğu daxili qarşıdurma
- Ⓓ. Jakeriya nəticəsində kənd təsərrüfatının inkişafının zəifləməsi

21. Fransada böyük inqilab zamanı inkişaf etmiş hadisələrlə əlaqədar hansı fikir düzgündür?

- Ⓐ. Termidorlara ölüm cəzası verildikdən sonra yakobinçilər yalnız qalmış jirondistləri asanlıqla məğlub etdilər
- Ⓑ. Çara və çariçaya ölüm cəzası verildikdən sonra yakobinçilər və jirondistlər termidorçuları da məhv etdilər
- Ⓒ. Yakobinçilərə ölüm cəzası verdikdən sonra jirondistlər digər rəqiblərini də məğlub etdilər və hakimiyyət başına gəldilər
- Ⓓ. Çara ölüm cəzası verdikdən bir neçə ay sonra jirondistlər hakimiyyəti itirdilər və yakobinçilər hakimiyyətə gəldilər

22. 1848-1849-cu illərdə İtaliyada inkişaf edən inqilabi hadisələrdə kimlər iştirak edirdi?

ə. Kavur və Vittorio-Emmanuel

ə. Vittorio-Emmanuel və Madzini

ə. Madzini və Qaribaldi

ə. Qaribaldi və Kavur

23. XX əsrin 10-cu illərində Balkan ölkələri nə üçün “ən partlayış qorxulu” bölgələrdən biri sayılırdı?

Ⓢ. Balkanda mövcud olan kiçik dövlətlərin qarşılıqlı iradlarına Osmanlı, Avstriya-Macaristan və Rusiyanın bu bölgəyə maraqları da əlavə olunurdu

Ⓣ. Avstriya-Macaristan imperiyası parçalandıqdan sonra yaranmış dövlətlərin bir-biri ilə sərhəd toqquşmaları baş verirdi, onların arxasında isə Rusiya və Osmanlı dururdu

Ⓤ. Almaniyanın birləşdirilməsi qüvvələr balansını dəyişdirdi və onun müttəfiqi olan Xorvatiya və Sloveniya Rusiyanın himayədarlıq etdiyi qonşu Bolqarıstanla müharibəyə başladılar

Ⓦ. Avstriya-Macaristan və Rusiyanın mənafeləri xeyrinə yeraltı sərvətlərlə zəngin olan bu bölgəyə Yuqoslaviyanın öz qonşusuna qarşı təcavüzkar siyasəti də əlavə olunurdu

24. 1988-1989-cu illərdə Şərqi Avropada inkişaf etmiş hadisələrlə əlaqədar hansı fikir düzgündür?

- а. SSRİ-nin parçalanması avtomatik surətdə onun satelit kommunist rejimlərinin digər sosialist düşərgəsi ölkələrində də parçalanmasına səbəb oldu
- б. SSRİ-də başlanmış dəyişikliklər Avropanın sosialist ölkələrinin əksəriyyətində məxməri inqilablara imkan yaratdı
- в. SSRİ-nin zəifləməsi Rumıniyada, Polşada və Çexoslovakiyada silahlı üsyanlar nəticəsində kommunist rejiminin dağılmasına imkan yaratdı
- г. SSRİ-də həyata keçirilən yenidənqurma sosialist düşərgəsinin üzvü olan ölkələrin müstəqillik elan etmələrinə imkan verdi

25-28№-li tapşırıqlar üçün təlimat.

Tarixi hadisələri xronoloji qaydada yerləşdirin. Cavabları cavablar vərəqində verilmiş xanalarda yazın. Nəzərə alın ki, xanada yalnız qeyd olunmuş hadisənin müvafiq rəqəmi yazılmalıdır. Birinci xanada ən əvvəl baş verən hadisə ilə qeyd olunan rəqəm yazılmalıdır və s. Buna müvafiq olaraq, sonuncu, üçüncü xanada ən gec baş verən hadisə ilə qeyd olunan rəqəm yazılmalıdır. Hər tapşırığa 1 xal verilir.

25. Qədim Şərq dövlətlərində baş vermiş hadisələri xronoloji qaydada yerləşdirin:

1. Midiyalılar tərəfindən Nineviya şəhərinin alınması
2. II Kir tərəfindən Ekbatan şəhərinin alınması
3. II Nabukodonosor tərəfindən Yerusəlim şəhərinin alınması

26. V əsrdə Qərbi Avropada baş vermiş hadisələri xronoloji qaydada yerləşdirin:

1. Frankların xristianlaşdırılması
2. Qərbi Roma imperiyasının süqutu
3. Katalaun çölündə vuruşma

27. XVI-XVII əsrlərdə Fransada baş vermiş hadisələri xronoloji qaydada yerləşdirin:

1. “Barfolomey gecəsi”
2. IV Anri tərəfindən Nanti Ediktin nəşr olunması
3. Rişelyenin rəhbərliyi ilə La-Roşel qalasının ələ keçirilməsi

28. XX əsrin 20-ci illərində Gürcüstanda baş vermiş hadisələri xronoloji qaydada yerləşdirin:

1. Ümumi gürcü antisovet üsyanı
2. “Hərbi mərkəzin” məhv edilməsi
3. Müstəqillik komitəsinin (damkomun) yaradılması

29№-li tapşırıq üçün təlimat.

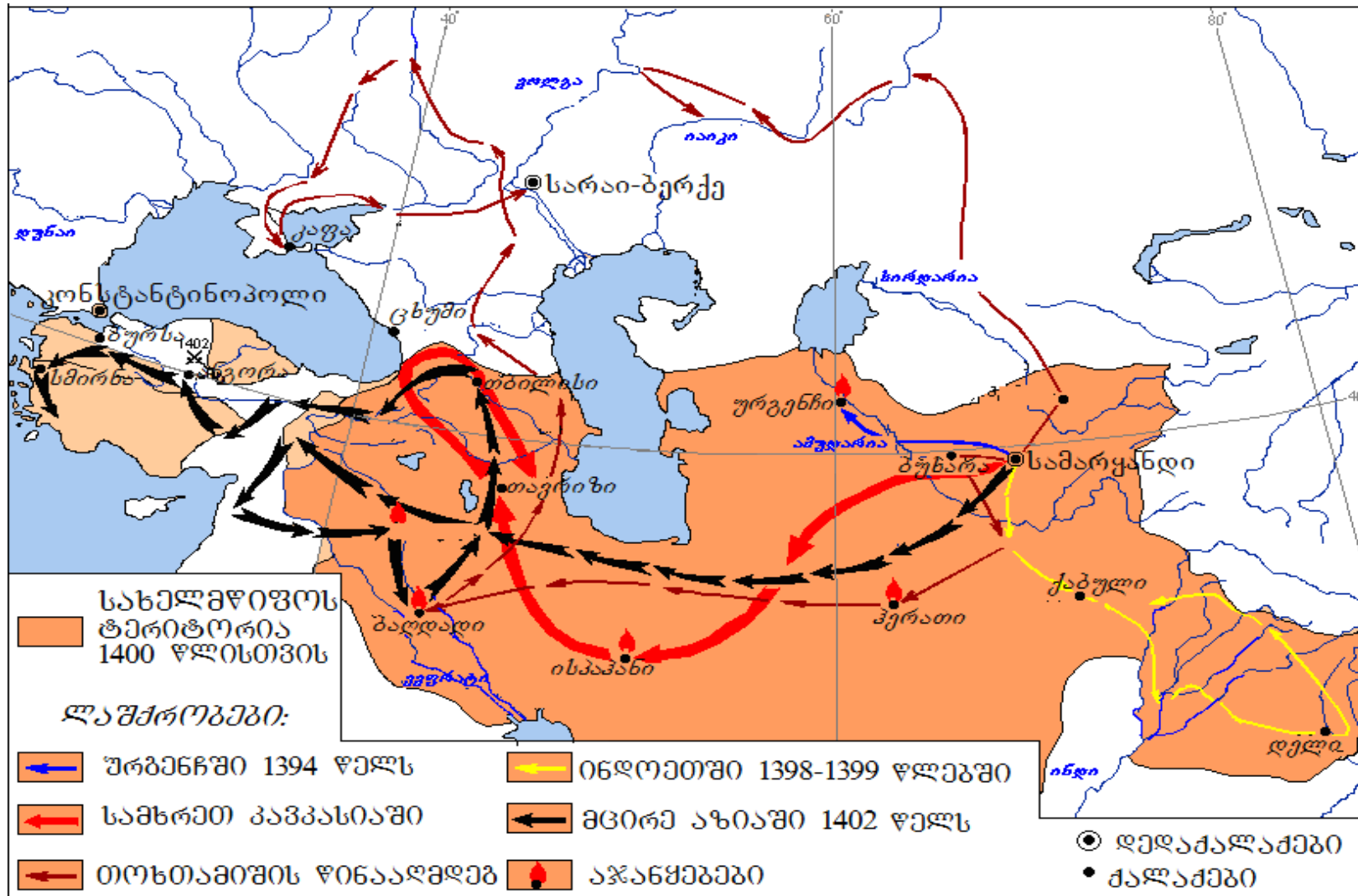
Şagirdə xəritə verildi. O öz biliyinə və xəritədəki informasiyaya görə verilən suallara cavab verməlidir.

Şagirdin verdiyi cavablarda iki (2) səhv vardır.

Siz bu səhvləri tapmalı, onları cavablar vərəqinin müvafiq yerində yazmalı və oradaca düzgün cavabı qeyd etməlisiniz.

Tapşırıq 29. Xəritəyə və suallara növbəti səhifələrdə baxın





Suallara növbəti səhifədə baxın

Şagirdə verilən suallar:

29.1. Xəritədə tünd qəhvəyi rənglə qeyd olunmuş dövlətin hakimi kim idi?

29.2. Toxtamış dövlətinin paytaxtı hara idi?

29.3. Düşmənin hücumundan Gürcüstanın hansı şəhəri xilas oldu?

29.4. Çayarasında mövcud olan hansı şəhərə iki dəfə hücum edildi?

29.5. Xəritədə təsvir olunmuş dövlətin hökmdarı Kiçik Asiyaya yürüş zamanı hansı dövlətlə vuruşmalı oldu?

Şagirdin verdiyi cavablar:

29.1. Hulaqu xan

29.2. Saray-Berke

29.3. Sxumi

29.4. Baxdad

29.5. Rum sultanlığı ilə




30№-li tapşırıq üçün təlimat

İllüstrasiyada verilmiş informasiyanı diqqətlə təhlil edin və suallara cavab verin. Cavabları cavablar vərəqinin müvafiq yerinə yazın. Tapşırığa maksimum 7 xal verilir.

Tapşırıq 30. İllüstrasiyalara və suallara növbəti səhifələrdə baxın



Tapşırıq 30.



Plakatlarda yazılar (rusca): **N1** “Ural cəbhəyə”; **N2** “22 iyun 1941”; “ХДІК (НКВД)”; **N3** “Stalinqrad”

Suallara növbəti səhifədə baxın

Suallar:

(2) **30.1.** Hər üç plakat hansı tarixi prosesi əks etdirir, bu plakatların yaradıldığı ölkələrin adlarını çəkin.

(2) **30.2.** Verilən plakatlardan ikisi bir dövlətin təbliğat məqsədlərinə xidmət edir, bu plakatların nömrələrini göstərin və bu dövlətlərin adlarını çəkin. Fikrinizi hökmən plakatlarda mövcud olan informasiya ilə təsdiq edin.

(2) **30.3.** Qalan bir plakat hansı dövlətin təbliğat məqsədlərinə xidmət edir? Fikrinizi hökmən plakatlarda mövcud olan informasiya ilə təsdiq edin.

(1) **30.4.** Adını çəkdiyiniz iki dövlətdən plakatlarda əks etdirilmiş tarixi prosesdə hansı qalib gəlmişdi?

31№-li tapşırıq üçün təlimat. Aşağıda verilmiş tarixi sənədi diqqətlə oxuyun, mətni düşünün və suallara cavab verin. Cavabları cavablar vərəqinin müvafiq yerinə yazın. Tapşırığa maksimum 19 xal verilir.

Tapşırıq 31. Tarixi sənədə və suallara növbəti səhifələrdə baxın



“Kartlinin həyatı”ndan parça

Bu Giorgi özünün və bütün mülkünə sahib oldu. Öz qocalıq və gənclik dövründə, çünki çar olanda onun 12 yaşı var idi. O zaman Heret-Kaxeti ölkəsi ondan ayrıldı və o dövrün aznaurlarının köməyi ilə eristavlar əsir alındı, onun ölkəsini əvvəllər sahib olan hökmdarlar ələ keçirdilər.

Hökmlərliyinin yeddinci ilində Yunanıstan çarı Vasili özünün bütün yunan qoşunları və saysız hesabsız yadellilərlə onun üzərinə hücumu keçirdilər. Ancaq Giorgi özünün çoxsaylı qoşunu ilə ona qarşı çıxdı. Və uzun müddət ərzində hər iki tərəf Basian torpağında düşərgəyə çevrildi, bir-birinə qarşı hücumu keçmədi.

Çar Giorgi ehtiyat etdi, Oltisi şəhərinə daxil olub onu yandırdı. Oradan Kolaya keçdi. Yunanıstan Çarı Vasili onu addım-addım izləməyə başladı və onun arxasına keçdi. Giorginin qoşunlarının aryerqardı və Vasilinin qoşununun avanqardları döyüşə girişdilər və Şirimni adlandırılan kənddə böyük vuruşma baş verdi. Hər iki tərəfdən çox adam məhv

edildi. Ancaq xeyli sonra çar Giorgiyə xəbər çatdı ki, arxadan gələn döyüşçülərə qarşı mübarizə aparılır. Oradaca onun əmri ilə bütün qoşun silahı döyüş hazırlığına gətirdi. Çar Giorginin özü öz qoşununun başında irəli cumdu. O, mərd, tamamilə qorxu bilməz, sanki cansız idi və onunla birlikdə döyüşçülərin əksəriyyəti də belə idi. Vasili özünün bütün qoşunu ilə gəlib çatdı. Bir-birinə qarşı durdular və güclü döyüş baş verdi. Yunanların əksəriyyətini qırdılar, qənimət ələ keçirdilər. Onların arasında elə döyüş baş verdi ki, çar Vasili qaçmağa hazırlaşmağa başladı.

Lakin gürcülər zəiflik göstərdilər və geri döndülər. Yunanlar onlara çatıb çoxunu qılıncdan keçirdilər. Qoşunlar Ərdahana çatdılar, ələ keçirib darmadağın etdilər. Bu zaman çar Giorgi Trialetiyə qayıtdı. Onlar yenidən qarşılaşdılar, Giorgi möhkəmləndi, Kaxetidən və Heretidən yardım aldı. Lakin ona ikinci dəfə döyüşə girmək imkanı vermədilər.

Mətnin davamına növbəti səhifədə baxın

Suallara keçid: [1](#) [2](#) [3](#) [4](#) [5](#) [6](#) [7](#) [8](#) [9](#) [10](#) [11](#)

Çar Vasili Trialetidən geri çəkildi, yenidən Cavaxetidən və Ərdahandan keçdi. Yenə də bu torpaqları böyük amansızlıqla darmadağın etdi. Və gedib Trabzon şəhərinin yaxınlığında qışlamağa başladı. Onlar sülh və məhəbbəti bərqərar etmək üçün səfir mübadiləsinə başladılar.

Vasili yenidən geri qayıtdı, Basianiyə qədəm qoydu, sülh və razılıq vəd edərək torpaqlar və qalalar ələ keçirməyə başladı. Çar Giorgi bundan xəbər tutaraq eristav Zviadi onun qoşunu ilə birlikdə göndərdi və barışıqlıq haqqında danışıqlarla Vasilini az müddətə saxlamağı əmr etdi, özü isə onun ardınca güclü qoşunla hərəkət etdi. Və belə düşündü: “Əgər çar Vasili sülh istəyirsə, belə də olacaqdır, əgər müharibə istəyirsə, ona hazırlaşacağıq”. Barışmaq istəməyənlər isə döyüşə hazırlaşmağa başladılar. Onlar döyüşə hazır olan və düşərgə salmış Vasiliyə yaxınlaşdılar. Döyüş başladı. Onların arasında döyüş davam edərkən gürcü qoşunları qaçmağa üz qoyub geri çəkildilər. Bir çox gürcü qılıncdan keçirildi, bəzilərini isə əsir aldılar. Böyük qənimət və Giorginin yanında olan çar xəzinəsini ələ keçirdilər.

Suallara keçid: [1](#) [2](#) [3](#) [4](#) [5](#) [6](#) [7](#) [8](#) [9](#) [10](#) [11](#)

Və yenidən əvvəlki kimi sülh danışıqlarına başladılar, çünki Yunanıstanda qiyamdan çox qorxurdu. Sülh və müqavilə bağladılar. Çar Giorgi öz oğlu üç yaşlı Baqratı girov qoyub qalaları, habelə David Kuropalatın malik olduğu torpaqları saxladı. Və çar Vasili oradan aralandı və şahzadə Baqratı özü ilə girov apardı, özü də and içdi: “Üçüncü il sənin oğlunu özünə qaytaracağam”. Və o, üç il ərzində çar şəhəri Konstantinopolda qaldı. Və üçüncü il vəd etdiyi kimi onu geri qaytardı.

O özünün malikanəsinə və çarlığına qayıdanda onu şərq katepanı özünün malikanəsinin sərhədlərində mütəmadi olaraq ziyarət etdi. O geri qayıdan kimi mandatur ona çatıb çar Konstantinin məktubunu katepana verdi.

Məktub aşağıdakı qaydada yazılmışdı: “Allahın iradəsi ilə arzu etdiyiniz qardaşın Vasili vəfat etdi və onun əvəzinə mən bütün Yunanıstanın çarı oluram. Baqrat, abxazlar hökmdarı Giorginin oğlu mənim malikanələrimin hansı hüduddlarına ayaq basdığına baxmayaraq, onu tezliklə geri qaytarın ki, bizim qarşımızda dursun”.

Mətnin davamına növbəti səhifədə baxın

O çarın əmrini oxuduqdan sonra dərhal ona çatmaq üçün geri qayıtdı. O yaxınlaşanda böyük çoxluğun: eristavların və aznaurların, taoluların, mesxlilərin və kartvililərin onun qarşısında dayandığını gördü. Onların sayı-hesabı yox idi. Bu zaman o kənara çəkilib yanına gələn mandatura dedi: “Əgər gücün çatırsa, onu apar, Bu mənim üçün daha mümkün deyildir”.

O Kutatisidə öz atası çar Giorginin evində, onun qarşısında dayandı. Onu görcək təsvir edilməz dərəcədə sevindilər və allaha dua oxudular. O zaman iki yüz qırx beşinci kronikon idi.

Bundan sonra patriarx Melxisedek Konstantinopola çar Konstantinin yanına getdi. Yunanlar çarı onu qəbul etdi və kilsələr üçün bəzək əşyaları, ikonalar və xaçlar verdi. O öz ölkəsinə gəldi, Taoda, Klarcetidə, Cavaxetidə və Kolada kəndlər aldı, müqəddəs paytaxt Msxetaya, Həyat bəxş edən

dirəyə qurban kəsdi. İki il keçdikdən sonra, tamamilə gənc yaşında ikən, hər cür xeyirxahlığı bacaran, nəsli arasında gücünə, gəncliyinə, cürətliliyinə, düşüncəsinə, çarlığın idarə edilməsində göstərdiyi hünərdə demək olar ki, tayı-bərabəri olmayan çar Giorgi iki yüz qırx səkkisinci kronikon, avqustun on altısında, Trialeti torpağında Mkinvari yaxud İtsroni adlanan yerdə vəfat etdi. Və o, adamlarda özü və çarlığı barədə kədər və qəm qoyub getdi. Onun bütün xeyirxahları onun gəncliyinə və rəşadətinə görə kədərlənirdilər. Onu aparıb Kutatısı məbədində dəfn etdilər.

Onun dörd uşağı qaldı: oğulları Baqrat və Demetre, qızları Quranduxt və Kata; onun beşinci uşağı Marfa isə vəfat etmişdi. Böyük çar Giorginin ölümündən sonra doqquz yaşlı Baqrat özünün bütün malikanəsinin və çarlığının hökmdarı elan edildi.

Suallara növbəti səhifədə baxın

Suallara keçid: [1](#) [2](#) [3](#) [4](#) [5](#) [6](#) [7](#) [8](#) [9](#) [10](#) [11](#)

Suallar:

(1) **31.1.** Mənbəyə əsasən, bu diyarların III Baqratın hakimiyyəti altına keçdikdən sonra, Kaxet-Heretidə yerli idarəetməni kimlər həyata keçirirdi?

(1) **31.2.** Əgər siz çar Giorginin didebulu olsaydız, ona Şirimni döyüşündən sonra yardımçı qüvvə aldığına görə döyüşü davam etdirməyi məsləhət görərdinizmi? Öz fikrinizi hökmən əsaslandırın.

(1) **31.3.** Salnaməçinin “kartvililər aznaurlar” sözlərində Gürcüstanın hansı guşəsinin sakinləri nəzərdə tutulur?

Sənədin mətninin [1-ci səhifəsinə](#) keçid

Sənədin mətninin [2-ci səhifəsinə](#) keçid

Sənədin mətninin [3-cü səhifəsinə](#) keçid

- (1) **31.4.** Mənbəyə əsasən, şahzadə Baqrat hansı ildə vətənə qayıtmışdır? Cavabınızı mənbədəki informasiya üzrə əsaslandırın.
- (2) **31.5.** Mənbəyə əsasən, sülh bağlamağın təşəbbüsçüsü kim idi və o nə üçün sülh bağlamağa tələsirdi?
- (2) **31.6.** Çar Vasili hansı “ölkəni” (konkret tarixi guşənin adını çəkin) tələb edirdi və nəyin əsasında?
- (2) **31.7.** Mənbəyə əsasən, çar Giorgi döyüşlərdə məğlubiyyətdən sonra hansı şərtlərə əməl etməli oldu

Sənədin mətninin [1-ci səhifəsinə](#) keçid

Sənədin mətninin [2-ci səhifəsinə](#) keçid

Sənədin mətninin [3-cü səhifəsinə](#) keçid

(2) **31.8.** Çar Giorginin çarlığında Vasili ilə döyüşün tərəfdarları və əleyhdarları olduğunu sübut edən mənbədən iki sitat gətirin.

(2) **31.9.** Mənbəyə əsasən, “Katabani şərqi üçün” yeni əmrin göndərilməsinə konkret nə səbəb oldu və onun həyata keçirilməsi nə üçün mümkün olmadı?

(2) **31.10.** Patriarxın Konstantinopola səfəri hansı konkret nəticə ilə başa çatdı və fikrinizcə, səfərin bu cür başa çatmasına hansı siyasi yaxud mədəni aspekt səbəb oldu?

(3) **31.11.** Mənbədə mövcud olan informasiyaya əsaslanmaqla, Şirmin ətrafında döyüşün üç mərhələsini ayırın **(cavablar vərəqində döyüşün mərhələlərini hökmən nömrələyin)**

Sənədin mətninin [1-ci səhifəsinə](#) keçid

Sənədin mətninin [2-ci səhifəsinə](#) keçid

Sənədin mətninin [3-cü səhifəsinə](#) keçid

32№-li tapşırıq üçün təlimat . Aşağıdakı tapşırığı diqqətlə oxuyun və suallara cavab verin. Cavabları cavablar vərəqinin müvafiq yerinə yazın. Hər suala tam və ətraflı cavab verin. Tapşırığa maksimum 4 xal verilir.

Tapşırıq 32. Diskussiya mövzusunun müəyyən edilməsi

(1) **32.1.** №31-li tapşırıqda verilmiş “Kartlinin həyatı”ndan parçada tarixi mənbədən hansı konkret mövzunu müzakirə edərkən istifadə edərdiniz?

(1) **32.2.** Dərsdə müzakirə olunacaq mövzunun başlıca məsələsini nəzərə almaqla diskussiya mövzusunun başlığını müəyyən edin.

(2) **32.3.** Diskussiya zamanı qarşıya çıxacaq iki alternativ mövqe yaradın.