

# Tarix üzrə test

## Təlimat

Qarşınızdakı imtahan testinin elektron bukletidir.

Testin hər bir tapşırığının təlimatı ilə diqqətlə tanış olun, hər bir tapşırığın tələbini yaxşı düşünün və sonra işə başlayın.

**Testin maksimum xalı - 55**

**Testin üzərində işləmək üçün sizə 4 saat vaxt verilir**

**Sizə uğurlar arzulayırıq!**

**1-24 №-li tapşırıqlar üçün təlimat.** Hər suala ehtimal olunan dörd cavab verilmişdir. Onlardan yalnız biri düzgündür. Sizin seçdiyiniz cavabı işarə etməyin yeganə yolu cavablar vərəqindəki müvafiq xanada X işarəsi qoymaqdır. Heç bir başqa qeyd, üfüqi yaxud şaquli xətlər, dairəyə almaq və s. elektron proqramı tərəfindən qəbul edilmir. Əgər cavablar vərəqində işarə edilmiş cavabı düzəltmək istəyirsinizsə, xananı bütövlüklə rəngləyin və ona X işarəsi qoyun, sonra cavabın yeni variantını işarə edin (yeni xanada X işarəsi qoyun). Düzəltdiyiniz cavabı təkrarən seçmək qeyri-mümkündür. Hər tapşırığa 1 xal verilir.

(1) 1. **İllustrasiyada təsvir olunan artefaktları tarixin hansı sahəsi öyrənir?**



ა. Bonistikia;

ბ. Numizmatika;

გ. Faleristika;

დ. Qliptika.

(1) 2. İllustrasiyada təsvir olunan qızıl piyalə hansı mədəniyyətə aiddir?



ა. Kür -Araz mədəniyyətinə;

ბ. Trialeti mədəniyyətinə;

გ. Kolx mədəniyyətinə;

დ. Koban mədəniyyətinə.

(1) 3. İllustrasiyada təsvir olunan tanınmış Behistun yazısı hansı padşahın əmri ilə yaradıldı?



ა. Asurbanifalın;

ბ. I Tiquatpilalarარın;

გ. I Darionun;

დ. Hamurabinin.

(1) 4. Aristotel haqqında hansı məlumat doğru deyil?

Ⓛ. Makedoniyalı İskəndərin müəllimi idi;

ⓓ. Afinada öz məktəbinin - “Liseumun” əsasını qoydu;

ⓖ. İskəndəriyyə kitabxanasının əsasının qoyulmasında iştirak etdi;

Ⓣ. Həyatının sonlarında Afinanı tərk etməyə məcbur oldu.

(1) 5. Başqa səbəblərlə birlikdə Peloponnes döyüşünün nəticəsinə nə səbəb oldu?

α. Xeroneya döyüşündə Afinanın məğlub edilməsi;

β. Korinto Dəniz İttifaqının dağılması;

γ. Spartalıların farslarla ittifaq qurması;

δ. Siciliyada hərbi ekspedisiyanın pozulması.

(1) **6. Roma tarixinin hansı dövrünə Prinsipat deyilir?**

- Ⓛ. Əfsanəvi Romulusun Roma şəhərini idarə etdiyi və gücləndirməyə başladığı tarixə qədərki dövrə;
- ⓓ. Qürurlu Tarqviyunusun hakimiyyəti ilə başa çatan krallar hakimiyyətinin son dövrünə;
- ⓖ. Qeysərin təkşəxslı hakimiyyətinin qurulması ilə nəticələnən respublikanın zəiflədiyi dövrə;
- Ⓢ. Oktavius Avqustun hakimiyyəti ilə başlayan imperiyanın erkən dövrünə.



(1) 7. I əsrin 30-cu illərində Kartli krallığının güclənməsini başqa faktorlarla birlikdə nə təsdiqləyir?

ა. Albaniyada gürcü şahzadəsinin kral olması;

ბ. Lazika krallığının Kartli kralının vassalı olması;

გ. Alanların xərac verməklə Kartli krallığının vassallığını elan etməsi;

დ. Ermənistan taxtının gürcü kraliyyəti ailəsinin nümayəndəsi tərəfindən tutulması.

(1) **8. XI əsrdə baş verən Böyük Skizm haqqında hansı müzakirə doğrudur?**

- Ⓛ. Roma Papası ilə Konstantinopol Patriarxı arasındakı mübahisələrə təkcə dini deyil, həm də siyasi məsələlər səbəb oldu;
- ⓓ. Müqəddəs Roma imperatoru ilə Bizans imperatoru arasındakı siyasi qarşıdurma yavaş-yavaş şiddətli dini qarşıdurmaya çevrildi;
- ⓖ. Afina dağında fəaliyyət göstərən rahiblər və Fransiskanlar ordeni arasında doqmatik qarşıdurma mübahisə ilə başladı və siyasi qarşıdurmaya çevrildi;
- Ⓢ. Roma imperatorluğunun şərq və qərb bölgələri arasındakı siyasi-iqtisadi fərqlər də dini qarşıdurmaya səbəb oldu.

(1) 9. Hansı boğazın adı ərəb istilaları ilə əlaqəlidir?

ə. Messin boğazının;

ə. Bosfor boğazının;

ğ. Cəbəllütariq boğazının;

դ. Dardanel boğazının.

(1) 10. Kral II Giorginin krallıq dövrü ilə əlaqədar hansı məlumat doğru deyil?

- ⸁. Kral Partsxisi yaxınlığında səlcuqları məğlub etdi;
- ⸂. Müəyyən zaman ərzində krallığın qala-şəhərini tutdu;
- ⸃. Kaxet-Heretini birləşdirdi;
- ⸄. Səlcuq sultanı ilə sülh bağladı.

(1) 11. Çingiz Xan Xarəzmlilərin dövlətinə hücum etmək üçün onların hansı hərəkətini bəhanə gətirdi?

⸈. Onun tabeliyində olan tacirlərin böyük qrupunun öldürülməsini;

⸉. Qonşu şəhərlərə hücum edilməsini və onların qarət olunmasını;

⸊. Hər il verilən xəracın dayandırılmasını;

⸋. Rəqib monqol liderləri ilə danışıqların aparılmasını.

(1) 12. Təqdim olunan illüstrasiyada hansı tarixi hadisə əks olunmuşdur?



⸁. Bertlome gecəsi;

⸂. Konstantinopolun süqutu;

⸃. Janna D'arkın Orleona girişi;

⸄. Səlbçilər tərəfindən Yerusəlimin alınması.

(1) **13. VII Səlib yürüşü digər Səlib yürüşlərindən nə ilə fərqlənirdi?**

- ⸑. Portuqaliya kralının donanmasından yalnız bu yürüşdə istifadə etdilər;
- ⸒. Almaniya İmperatoru yürüşdə birinci və axırınıcı dəfə iştirak edirdi;
- ⸓. Leon və Kastiliya kralı döyüşdə öldürüldü;
- ⸔. Yürüşün başçısı Fransa kralı əsir düşdü.

(1) **14. İngiltərə Kralı VIII Henrinin adı ilə bağlıdır:**

- ⸆. İspaniyalıların məğlub edilməsi və “yenilməz armadanın” məhv edilməsi;
- ⸇. "Böyük Azadlıq Xartiyası" nın qəbul edilməsi və ilk parlamentin çağırılması;
- ⸈. İlk İngilis ekspedisiyasının Amerika qitəsinə göndərilməsi;
- ⸉. Roma papası ilə əlaqənin kəsilməsi və İngiltərə kilsəsinin rəhbərliyinin ələ keçirilməsi.



(1) **15. Başqa səbəblərlə birlikdə Teymurləngin Gürcüstana ilk yürüşünə nə səbəb oldu?**

- ⸆. Toxtamışın Cənubi Qafqaz vasitəsilə Şimali İrana gedən ekspedisiyası;
- ⸇. Sultan I Bəyazıd tərəfindən Gürcüstan krallığının razılığı ilə Bağdadın alınması;
- ⸈. Gürcü ordusu tərəfindən qonşu müsəlman dövlətlərinin istilasısı;
- ⸉. Xarəzm şəhzadəsinin Teymurləngə verilməsinin Gürcüstan Kralı tərəfindən rədd edilməsi.

(1) 16. 1521-ci ildə Tenoçtitlanın süqutu ilə hansı dövlət varlığını dayandırdı?

Ⓛ. Apaçilər;

Ⓜ. İnlər;

Ⓝ. Asteklər;

Ⓞ. Mayalar.

(1) 17. Oliver Kronvelin hakimiyyəti dövründə İngiltərə və Niderland müharibəsinin səbəbi nə idi?

- Ⓚ. Katoliklər və protestanlar arasındakı qarşıdurma;
- Ⓛ. Təbii sərvətlərlə zəngin olan Flandriyanın ələ keçirilməsinə cəhd edilməsi;
- Ⓜ. Dünya dənizində birincilik qazanmaq arzusu;
- Ⓨ. Monarxiya və respublika idarəetmə formalarının ziddliyi.

(1) **18.** Verilmiş abidə haqqında hansı müzakirə doğrudur?



- ა. Baş Mələk Məbədi Kaketi kralı Levan tərəfindən tikilmiş və orada dəfn edilmişdir;
- ბ. Müqəddəs Georgi Kilsəsi və Kral Sarayı Kaketi kralı I Aleksandrın əmri ilə tikilmişdir;
- გ. Bakirə Monastırı II Erekle və Kraliça Darecan tərəfindən bərpa edildi və ona zəng qülləsi əlavə edildi;
- დ. Müqəddəs Nikoloz Kilsəsi Kaketinin kralı Böyük Kvirike tərəfindən tikilmiş və boyanmışdır.

(1) **19. I Solomonun hansı təşəbbüsü uğursuzluqla sona çatdı?**

Տ. Osmanlı qarnizonlarının İmeretidən qovulması;

Ծ. Kobuleti istiqamətində yürüş;

Ձ. Möhkəmlənmiş Raca eristavının tabe edilməsi;

Թ. Apxaz katolikliyinin islahatı.

(1) 20. Cənubi Qafqazda baş verən hansı hadisə Kaxetidəki rus ordusuna Aleksandr Batonishvilinin rəhbərliyi ilə gedən üsyanın yatırılmasına kömək etdi?

⸁. Süleyman Paşanın məğlubiyyəti və Axalçixenin ruslar tərəfindən alınması;

⸂. Abbas-Mirzənin ruslarla döyüşdə məğlubiyyəti;

⸃. Rus ordusu tərəfindən Şamilin müqavimətinin qırılması;

⸄. II Solomonun üsyanınının məğlub edilməsi və kralın qovulması.

(1) **21. Gürcüstanın SSSR-nin tərkibinə daxil olunması haqqında hansı müzakirə doğrudur?**

- Ⓚ. SSRİ-yə daxil olmasının ikinci ilində Gürcüstan SSR Güney Qafqaz Sovet Sosialist Federal Respublikasına birləşdirildi;
- Ⓛ. Gürcüstan SSR əvvəlcə Qafqaz Konfederasiyasına birləşdi, sonra yeni qurulan SSRİ-yə qoşuldu;
- Ⓜ. Gürcüstan SSR, öz növbəsində SSRİ-nin qurucularından biri olan Güney Qafqaz SSFR-yə daxil edildi;
- Ⓨ. Gürcüstan Respublikası SSRİ tərəfindən işğal edildikdən sonra bu birliyə zorla daxil edildi.

(1) **22. Mussolini Münxen Konfransından sonra nə etdi?**

Ⓛ. Misiri zəbt etdi;

Ⓜ. Albaniyanı qoşunları ilə işğal etdi;

Ⓝ. Vatikanın müstəqilliyini tanıdı;

Ⓞ. İspaniyanın Vətəndaş müharibəsinə müdaxilə etməyi dayandırdı.



(1) **23. 1956-ci ildə Süveyş böhranının yaranmasına nə təkan verdi?**

- ⸆. Süveyş kanalının Misir tərəfindən milliləşdirilməsi;
- ⸇. BMT tərəfindən hərbi gəmilər üçün Süveyş kanalının bağlanması;
- ⸈. ABŞ-ın kanaldan istifadə etməkdə imtiyaz qazanmaq cəhdi;
- ⸉. SSRİ-nin Süveyş kanalına tam nəzarət etmək istəyi.

(1) **24. 1979-cu ildə Əfqanıstan müharibəsinin başlamasının əsas səbəblərindən biri nə idi?**

- Ⓐ. “Taliban” hərəkatının hakimiyyətə gəlməsi;
- Ⓑ. NATO ordusunun qüvvələrinin Əfqanıstana yerləşdirilməsi;
- Ⓒ. Nyu-Yorkda Əl-Qaidə terror aktı;
- Ⓓ. SSRİ-nin Əfqanıstanda tam nüfuz qazanmaq istəyi.

**25-28 №-li tapşırıqlar üçün təlimat.**

Tarixi hadisələri xronoloji ardıcılıqla sıralayın. Cavabları cavablar vərəqində verilmiş xanalarda yazın. Nəzərə alın ki, xanada yalnız qeyd olunmuş hadisənin və şəxsin müvafiq rəqəmi yazılmalıdır. Birinci xanada ən əvvəl baş verən hadisə ilə qeyd olunan rəqəm yazılmalıdır və s. Müvafiq olaraq, sonuncu, üçüncü xanada ən gec baş verən hadisə ilə qeyd olunan rəqəm yazılmalıdır. Hər tapşırığa 1 xal verilir.

(1) 25. Qədim şərq dövlətlərini onların məhv olma vaxtlarına görə xronoloji olaraq sıralayın.

1. Assuriya

2. Midiya

3. Urartu

(1) **26. XIV əsrdə Fransada inkişaf edən hadisələri xronoloji olaraq sıralayın.**

1. Jakeria

2. „Yüzillik müharibənin“ başlanğıcı

3. Valua sülaləsinin hakimiyyəti

(1) 27. İtaliyanın birləşməsi ilə bağlı hadisələri xronoloji olaraq sıralayın.

1. Vittorio II Emanuelin İtaliya kralı elan edilməsi
2. Venesiya vilayətinin İtaliyanın tərkibinə daxil olması
3. Solferino döyüşü

(1) **28. XIX əsrdə Gürcüstanda inkişaf edən hadisələri xronoloji olaraq sıralayın.**

1. Şərqi Gürcüstanda quldarlığın ləğvi
2. Quriya üsyanı
3. "Üçüncü Dasinin" meydana çıxması


## 29 №-li tapşırıq üçün təlimat.

Şagirdə xəritə verildi. O öz biliyinə və xəritədəki informasiyaya görə verilən suallara cavab verməliydi.

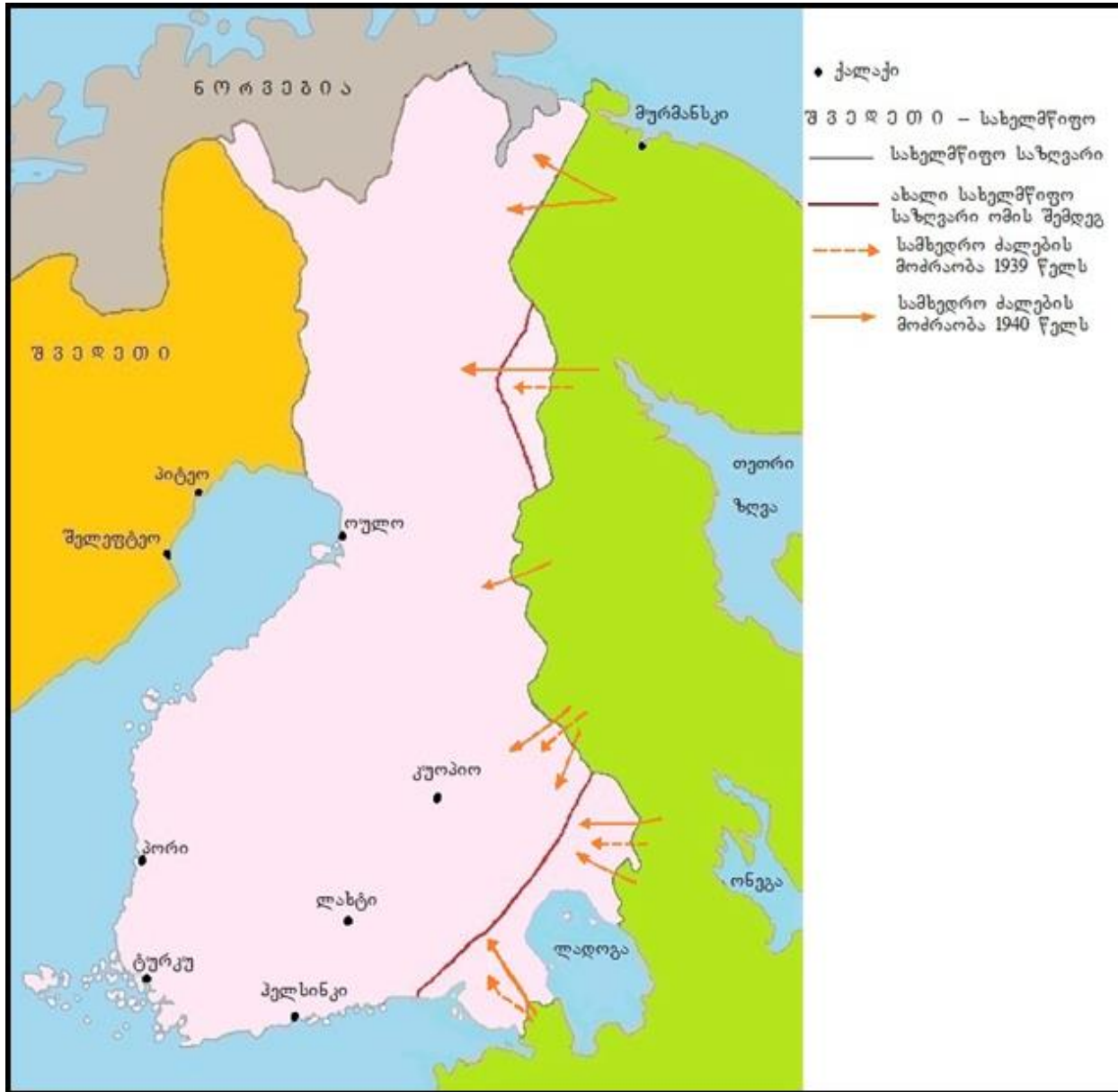
Şagirdin verdiyi cavablarda iki (2) səhv var.

Siz bu səhvləri tapmalı, onları cavablar vərəqinin müvafiq xanasına yazmalı və oradaca düzgün cavabı qeyd etməlisiniz. Tapşırığa maksimum 2 xal verilir.

[Xəritə və suallara növbəti səhivədə baxın](#)







[Suallara növbəti səhifədə baxın](#)

### Şagirdə verilən suallar:

**29.1.** Verilmiş xəritədə hansı dövlətin ərazisində döyüş əməliyyatları aparılırdı?

**29.2.** Xəritəyə əsasən, qeyd olunan döyüş əməliyyatları hansı illərdə baş verirdi?

**29.3.** Xəritəyə əsasən, hərbi təcavüzü hansı dövlət həyata keçirdi?

**29.4.** Xəritəyə əsasən, bu müharibədə hansı dövlət məğlub oldu?

**29.5.** Xəritəyə əsasən, qeyd olunan məğlubiyyət özünü nədə göstərdi?

**29.6.** Hansı dövlətlərarası müqavilə qeyd olunan hərbi təcavüzə yol açdı?

### Şagird tərəfindən verilən cavablar:

**29.1.** Finlandiyanın

**29.2.** 1939-1940

**29.3.** Rusiya Federasiyası

**29.4.** Finlandiya


**29.5.** Finlandiyanın tam işğalı həyata keçdi

**29.6.** Molotov-Ribbentrop paktı

### **30 №-li tapşırıq üçün təlimat**

İllüstrasiyada verilmiş informasiyanı diqqətlə təhlil edin və suallara cavab verin. Hər üç illüstrasiyanın bir tarixi prosesin üç epizodunu əks etdirdiyini nəzərə alın. Cavabları cavablar vərəqinin müvafiq yerinə yazın. Tapşırığa maksimum 7 xal verilir.

[İllüstrasiyalara və suallara növbəti səhifələrdə baxın](#)



## Tapşırıq 30.



N1



N2



N3

**Suallara növbəti səhifədə baxın**

Hər üç illustrasiya şərtli olaraq 3 mərhələyə bölünə bilən bir tarixi hadisəyə aiddir: birinci (başlanğıc), ikinci (orta), üçüncü (son).

### Suallar:

(2) **30.1.** N1 illustrasiyada illustrasiyalarda əks olunan tarixi hadisənin hansı mərhələsi əks olunmuşdur? Cavabınızı illustrasiyaya əsasən əsaslandırın.

(2) **30.2.** 1939-cu ildə çəkilən N2 illustrasiyada hansı dövlətlərin nümayəndələri təsvir olunmuşdur və hansı hərbi kampaniyadan sonra?

(2) **30.3.** N3 illustrasiya müharibə edən dövlətlərdən birinin müharibənin müəyyən mərhələsində qazandığı uğuru təsdiqləyir. Bu dövləti sadalayın və dövlətin uğurunu illustrasiyaya əsasən əsaslandırın.

(1) **30.4.** Hər üç illustrasiyanı istifadə edə biləcəyiniz dəqiq bir dərs mövzusunun adlandırın.

**31 №-li tapşırıq üçün təlimat.** Aşağıda verilmiş tarixi sənədi diqqətlə oxuyun, mətni düşünün və suallara cavab verin. Cavabları cavablar vərəqinin müvafiq yerinə yazın. Tapşırığa maksimum 18 xal verilir.

**Tarixi sənədə və suallara növbəti səhifələrdə baxın**



## Rusiya ordusu 1913- cü il.

### Almaniyanın Baş Qərargahının hesabatından çıxarışlar

Mancuriyadakı müharibədən sonra Rusiyada hərbi işlərin yüksəlişi qeyd olundu. Dövlətin sürətli iqtisadi inkişafı sayəsində orduya resurs ayırma imkanları meydana çıxdı ki, bu da digər dövlətlərin müdafiə sistemində etdiyi xərclərdən xeyli artıqdır. Buna görə də müharibənin səbəb olduğu maddi texnika problemlərini aradan qaldırmaqla yanaşı, ordunu müasir hərbi-texniki vasitələrlə silahlandırmaq və təchiz etmək, beləliklə Qərbi Avropanın böyük güclərinin ordu səviyyələrini bərabərləşdirmək mümkün oldu.

Maaş və təqaüdlərin artması ilə zabitlər korpusunun cavanlaşdırılmasına və sayının artırılmasına imkan yaratdı. Alman təşkilati prinsiplərinin tətbiqi demək olar ki, mövcud olmayan astsubaylar korpusunun yaradılmasını təmin etdi. Rusiya Baş Qərargahı tərəfindən müharibədən sonra plana uyğun olaraq orduda böyük bir yenidənqurma həyata keçirildi. Qaydalar əsaslı şəkildə dəyişdirildi. Bu zaman

Suallara keçid: [1](#) [2](#) [3](#) [4](#) [5](#) [6](#) [7](#) [8](#) [9](#) [10](#) [11](#) [12](#)

Rusiyanın özünəməxsus şərtlərinə uyğunlaşan Fransanın və daha çox Almaniyanın təcrübəsini nəzərə aldılar.

Rusiyadakı hərbi işlərin bu yüksəlişi rus xalqının çatışmazlıqları ilə məhdudlaşır, bu da nə pulla, nə də təşkilati işlərlə aradan qaldırıla bilmir. Bu çatışmazlıqlardır: metodik fəaliyyətlərə həvəsin olmaması, vəzifə hissəsinin çatışmamazlığı, məsuliyyət qorxusu, təşəbbüskarlığın olmaması və vaxtı düzgün müəyyənləşdirmə və istifadə edə bilmə bacarıqsızlığı. Etiraf etməliyik ki, bu çatışmazlıqlarla yanaşı, rus xalqının yaxşı hərbi xüsusiyyətləri də var. Bu keyfiyyətlər, ilk növbədə, rus xalqının ondan doqquzunun kəndli xalqı olması ilə izah olunur.

Rus əsgəri güclüdür, iddialı və cəsur deyil, ancaq əyilməzdir. Müstəqil və əlverişli deyil. Şəxsi olaraq tanımadığı başçı ilə və eyni zamanda vərdiş etmədiyi birliklərdə yaxşı keyfiyyətlərini asanlıqla itirir.

İnqilabi istəklər son illərdə orduda, xüsusən də texniki hissələrdə böyük uğurlar qazandı. Lakin ümumiyyətlə, rus

**Mətnin davamına növbəti səhifədə baxın**



ordusu krala sadıq və etibarlıdır.

Almaniya və Avstriyaya qarşı müharibə rus əhalisi arasında məşhur olacaq və Rusiyada yaşayan polşalılar hökumət üçün daha az etibarlı saymalıyıq.

Məmurlar şəxsi cəsarətlə xarakterizə olunur, lakin vəzifə və məsuliyyət hissindən məhrumdurlar. Xidmət pozuntularının qarşısını almaq üçün hər yerdə və hər zaman rəhbərlərin daimi nəzarətinə ehtiyac var. Rus zabitlərinin üstünlüyü, ən çətin vəziyyətlərdə belə onlara xəyanət etməyən soyuqqanlılıq və güclü sinirlərdir. Ancaq rus zabiti şəxsi rahatlığı çox sevir, fiziki və zehni baxımdan tənbəldir, müstəqil deyil və təsadüflər qarşısında acizdir. Rus zabiti, hər kəsin bunu eşidəcəyini zənn edərsə, xüsusi çətinliklər və təhlükələrlə əlaqəli olan işə getməyə hazırdır. Əgər bu impuls olmasa, hətta ən məsuliyyətli vəziyyətdə belə, şəxsən özü üçün ən məqbul həlli tapacaqdır. Baş Qərargah zabidləri elmi sahədə çox işləyirlər.

Rus zabidləri, xüsusən də Vılınüs və Varşava hərbi

Suallara keçid: [1](#) [2](#) [3](#) [4](#) [5](#) [6](#) [7](#) [8](#) [9](#) [10](#) [11](#) [12](#)

dairələrində, ordumuzun xüsusiyyətləri və təşkili, eyni zamanda sərhəd əyalətlərimizin coğrafi və istehkam şəraitləri barədə yaxşı məlumatlıdırlar. Rusların böyük bir üstünlüyü var, çünki onlar arasında alman dili bilənlər bizdə rus dili bilənlərin yayılmasından daha çox yayılmışdır. Məsələn, Baltikyanı ölkələrdən olan bir çox rus zabiti almanca sərbəst danışır və başqa formada onu alman zənn edə bilirlər. Rusiyaya qarşı müharibə zamanı gözətçi dəstələrimiz buna xüsusi diqqət etməlidirlər. Rus ordusunun hərəkəti əvvəlki kimi çox yavaş olur. Müəyyən qədər böyük bir rus hərbi birliyi müdafiədən hücumla sürətlə keçə və ya hərəkət istiqamətini sürətlə dəyişdirə bilməz. Buna görə də, alman komandanlığı ruslarla qarşıdurma zamanı başqa rəqiblərlə edə bilməyəcəyi manevr həyata keçirə bilər.

Sərhəddi keçdikdən sonra hərbi rəhbərlik hərbi əməliyyatlar teatrının tamamilə fərqli şəraitlərini məruzə etməli olacaqlar. Yolların keyfiyyətsiz olması möhkəm tikinti

**[Mətnin davamına sonrakı səhifədə baxın](#)**



materiallarının olmaması və yaşayış məntəqələri arasındakı məsafələrin uzunluğu ilə əlaqədardır.

Yalnız magistral yolların bərk örtüyü var, lakin onlar da çox vaxt o qədər pis vəziyyətdədirlər ki, avtomobil və ağır nəqliyyat böyük çətinliklərlə qarşılaşa bilər. Hər yerdə torpaq yollar asfaltdan məhrumdur. Onların yararlılığı hava və torpaqdan asılıdır. Yayda bataqlıqlardan keçmək olar. Bataqlıqlarda tez-tez ilin istənilən vaxtı yararlı olan cığırlar olur, lakin bu cığırlar sakinlər tərəfindən bilinir və xəritələrdə işarələnməyib.

Suallara keçid: [1](#) [2](#) [3](#) [4](#) [5](#) [6](#) [7](#) [8](#) [9](#) [10](#) [11](#) [12](#)

Tez-tez bataqlıq torpaqları olan qırılmamış böyük meşələr, hərbi dəstələrin hərəkətinə çox mane olur.

Hətta şəhərlərdə də böyük evlər azdır, kəndlərdə isə yalnız malikanələrdə və daxmalarda olur. Adi bir kəndli daxması kiçik və alçaqdır. Çoxunun tez-tez mal-qara ilə yaşadığı bir otağı var. Sərəncamlar yürüyüş və istirahət yerləri ilə əlaqəli olduqda yolların və yaşayış yerlərinin təbiəti nəzərə alınmalıdır.

**[Mətnin davamına sonrakı səhifədə baxın](#)**

Mətn bu veb-səhifədən alınmışdır - <http://www.firstwar.info/articles/index.shtml?4>

## *Suallar*

- (1) **31.1.** Mənbəyə əsasən, rus ordusu Avropanın böyük dövlətlərinin ordularından nə ilə geri qalmırdı?
- (1) **31.2.** Sizin fikrinizcə, inqilabi fikirlər niyə Rusiya ordusunun texniki hissələrinə daha çox yayılırdı?
- (1) **31.3.** Sizin fikrinizcə, Almaniya və Avstriya ilə müharibə rus əhalisi arasında nə üçün məşhur olardı?
- (1) **31.4.** Mənbənin hansı məlumatı Rusiyanın iqtisadiyyatında ənənəvi olaraq kənd təsərrüfatının aparıcı yer tutduğunu göstərir?
- (1) **31.5.** Mənbəyə əsasən, Rusiyaya ordunun maliyyəsinə yaxşılaşdırmağa nə imkan verdi?
- (1) **31.6.** Mənbəyə əsasən, Rusiya ordusunun reorqanizasiyası zamanı hansı dövlətlərin təcrübələri bölüşülmüşdür?

Sənədin mətninin [1-ci səhifəsinə](#) keçid

Sənədin mətninin [2-ci səhifəsinə](#) keçid

Sənədin mətninin [3-ci səhifəsinə](#) keçid

- (2) **31.7.** Sənədə əsasən, rus zabitləri və əsgərlərinin müsbət cəhətlərini tam şəkildə sadalayın.
- (2) **31.8.** Maaş və təqaüd artımının zabitlər korpusunun gəncləşməsi və sayının artması ilə necə nəticələnə biləcəyini izah edin.
- (2) **31.9.** Mənbəyə əsasən, Rusiya hakimiyyəti tərəfindən hansı millət etibarsız sayılır və fikrinizcə niyə?
- (2) **31.10.** Sənədə əsasən, Rusiya imperiyasının hansı bölgəsində alman dili geniş yayılmışdı və sənəddəki hansı məlumat bunu təsdiqləyir?
- (2) **31.11.** Mənbəyə əsasən, Rusiya ərazisindəki hərbi əməliyyatlar zamanı düşmən hərbi birləşmələrinin hərəkətinə mane ola biləcək bir-birindən müstəqil konkret səbəbləri sadalayın.
- (2) **31.12.** Sənədə əsasən, alman hərbi rəhbərliyi hansı konkret səbəblərə görə başqa rəqiblərlə cəsarət edə bilmədiyini maneə həyata keçirə bilər?

Sənədin mətninin [1-ci səhifəsinə](#) keçid

Sənədin mətninin [2-ci səhifəsinə](#) keçid

Sənədin mətninin [3-ci səhifəsinə](#) keçid