



Tarix üzrə test

Təlimat

Qarşınızdakı imtahan testinin elektron bukletidir.

Testin hər bir tapşırığının təlimatı ilə diqqətlə tanış olun, hər bir tapşırığın tələbini yaxşı düşünün və sonra işə başlayın.

Testin maksimum xalı - 55

Testin üzərində işləmək üçün sizə 4 saat vaxt verilir

Sizə uğurlar arzulayırıq!



1-22 №-li tapşırıqlar üçün təlimat. Hər suala ehtimal olunan dörd cavab verilmişdir. Onlardan yalnız biri düzgündür. Sizin seçdiyiniz cavabı işarə etməyin yeganə yolu cavablar vərəqindəki müvafiq xanada X işarəsi qoymaqdır. Heç bir başqa qeyd, üfüqi yaxud şaquli xəttlər, dairəyə almaq və s.kimi qeydlər elektron proqram tərəfindən qəbul edilmir. Əgər Siz cavab vərəqində işarə edilmiş cavabı düzəltmək istəyirsinizsə, X işarəsi qoyduğunuz xananı bütünlüklə rəngləyin, sonra cavabın yeni variantını işarə edin (yeni xanada X işarəsi qoyun). Düzəltdiyiniz cavabı təkrar seçmək qeyri-mümkündür. Hər tapşırıq 1 balla qiymətləndirilir.

(1) 1. Urartunun paytaxtı Tuşpa harada yerləşirdi?

ə) Van gölü sahilində;

ğ) Dəclə çayının sahilində;

ç) Zaqros dağlarında;

q) İran yaylasında.

(1) **2. Hansı yunan salnaməçisi bizə Peloponnes müharibəsi haqqında məlumat verir?**

Ⓛ) Fukidid;

Ⓜ) Miletli Hekatey;

Ⓝ) Appian;

Ⓞ) İosif Flavi.

(1) **3. İmperator Trayanın hakimiyyəti dövründə Romada zəfər sütunu nəyi qeyd etmək üçün ucaldıldı?**

ə) Vətəndaş müharibəsinin sonunu;

ğ) Dakların məğlub edilməsini;

ç) Misirin birləşdirilməsini;

ç) Aktsium yaxınlığındakı qələbəni.

(1) **4. VI-VII əsrlərin hüdudunda fəaliyyət göstərən Kartli erismtavarı I Stefanozla nə əlaqələndirilir?**

ა) Uplistsixenin azad edilməsi;

ბ) Mtsxetanın Cvari məbədinin tikilməsi;

გ) Samqoridə ərəb ordusunun məğlub edilməsi;

დ) Kartlidə katolikosluğun tətbiq edilməsi.

(1) 5. XI əsrdə Səlcuqların yürüşləri ilə bağlı hansı mülahizə doğrudur?

- ə) İran dövləti məhv edildikdən sonra Mesopotamiyanı, Kiçik Asiyanı tutdular. Anqora döyüşündə bizanslıları məğlub etdilər və Nikeyanı mühasirəyə aldılar;
- ə) İran ərazisini tutduqdan sonra yürüşlərini davam etdirdilər. Bizans imperiyasına hücum etdilər, Malazgird döyüşündə onu məğlub etdilər və imperiyanın şərq əyalətlərini nəzarət altına aldılar;
- ç) Ərəbistan yarımadasının işğalı zamanı Dəməşqi aldılar və talan etdilər. Sonra Misirə doğru yürüşlərini davam etdirdilər və Asuan döyüşündə xəlifəni məğlub etdilər;
- ç) Ərəbistan və Mesopotamiyanı işğal etdikdən sonra Xaricilər dövlətinə hücum etdilər. Onlar Hattin döyüşündə qalib gəldilər və Sinay yarımadasını ələ keçirdilər.

(1) **6. İoane Petritsi haqqında hansı məlumat doğrudur?**

- Ⓢ) Gelati akademiyasında fəaliyyət göstərirdi;
- ⓑ) Davit Qarecinin tipikonunu müəyyən etdi;
- ⓖ) Zarzma monastırının əsasını qoydu;
- ⓓ) Roma Papasının yanın getmiş səfirliyə rəhbərlik edirdi.

(1) 7. XII əsr müəllifi Valter Qotye Gürcüstan tarixi ilə bağlı hansı hadisə haqqında məlumat verir?

ə) Orbellərin sui-qəsdı;

ə) Didqori döyüşü;

ə) Toğrul bəyin hücumu;

ə) Qutlu Arslanın çıxışı .

(1) **8. Akvinli Fomanın fəaliyyəti haqqında hansı mülahizə doğrudur?**

- ə) Xristian təliminin həqiqiliyini əsaslandırmaq üçün Aristotelin ideyalarından istifadə etdi;
- ə) Diofizit və Monofiz təlimlərini doqmalarını öyrənmiş və onlar arasında mövcud olan kanonik ziddiyyətləri aradan qaldırmışdır;
- ç) Roma Papasının dəftərxanasında qorunan tarixi sənədləri araşdırmış və onlardan bəzilərinin saxta olduğunu üzə çıxarmışdır;
- ç) Müqəddəslərin həyat nümunələrinə əsasən katolik dünyasında monastır həyatının əsasını qoydu.

(1) 9. XII-XIII əsrlərdə gürcü memarlığının hansı abidəsi tikilmişdir?

ა) Bolnisi Sionu;

ბ) Ananuri qalası;

გ) Kintsvisi monastrı;

დ) Baqrat məbədi.

(1) **10. Monqol işğalları haqqında hansı fakt doğrudur?**

- ə) Batı xan məmlükləri məğlub etdi və Qüdsü tutdu;
- ğ) Hülakü xan Bağdadı tutdu və xəlifəni ölümlə cəzalandırdı;
- ç) Çingiz xan Mərkəzi və Şərqi Avropaya yürüş etdi və Qızıl Ordanın əsasını qoydu;
- ç) Bərkə xan Çini itaət altına aldı və Monqol İmperiyasının əsasını qoydu.

(1) 11. „Yüzillik müharibə“ haqqında hansı mülahizə doğru deyil?

- ə) Kresi döyüşündə ingilislər kral VI Filippin komandanlıq etdiyi fransız ordusuna qalib gəldilər;
- ə) İngiltərə kralı III Eduard uzun mühasirədən sonra Fransanın mühüm liman şəhəri olan Kaleni aldı;
- ə) Fransa kralı Xeyirxah II Yuan Puatye döyüşündə məğlub oldu və ingilislərə əsir düşdü;
- ə) Azenkur döyüşündə qazanılan uğurdan sonra VII Karl ingilisləri qəti olaraq Fransadan qovdu.

(1) **12. Cahanşahın hücumu haqqında hansı məlumat doğrudur?**

- ə) Gözlənilmədən Gürcüstana hücum etdi, Samşvildeni və Tiflisi aldı və qarət etdi;
- ğ) Naxiduri döyüşündə qazanılan qələbədən sonra Dmanisi və Lore qalalarını tutdu;
- ç) Gürcüstan çarının ölkədə olmamasından istifadə edərək Kutaisini aldı və Baqrat məbədini dağıtdı;
- ç) Şirvandan Kaxetiyaya soxuldu, Qremi və Dzeqamini tutdu, oradan tacir və sənətkarları İrana köçürtdü.

(1) **13. Nə Samtsxe Atabəyi II Mənuçöhr ilə bağlıdır?**

- ა) Osmanlı işğalçılara qarşı mübarizə;
- ბ) Gürcüstan çarı VIII Giorginin əsir alınması;
- გ) Elxanilər xanlığının himayəsi altına düşməsi;
- დ) İmperator XI Konstantinin hərbi yardım göstərməsi.

(1) **14. Venesiya Respublikası haqqındakı hansı mülahizə doğrudur?**

- ə) Venesiya uzun sürən mübarizədən sonra, Papa vilayəti istisna olmaqla, İtaliyanın bütün siyasi vahidlərini birləşdirə bildi;
- ə) Venesiyalılar Böyük coğrafi kəşflərdə fəal iştirak etdilər və Şimali Amerikada Venesiya koloniyalarının əsasını qoydular;
- ə) Venesiya Osmanlı imperiyası ilə çoxəsrlik qarşıdurmaya qoşuldu və onunla mübarizədə qəti olaraq Krit adasını itirdi;
- ə) Venesiyalılar Qranada əmirliyinin məhv edilməsində həlledici rol oynadılar və onun yerində Latın imperiyasının əsasını qoydular.

(1) **15. II Teymuraz haqqında hansı məlumat doğrudur?**

- ა) Axaltsixe paşasının köməyi ilə öz oğlunu İmeretiya taxtına çıxartdı;
- ბ) Nadir şah qarşı barışmaz mübarizə aparırdı;
- გ) Müxtəlif dövrlərdə həm Kaxeti, həm də Kartli taxtına sahib olmuşdur;
- დ) İranlıların Əfqanıstana və Hindistana olan yürüşlərində şəxsən iştirak edirdi.

(1) **16. Hansı hadisə Rusiya imperatriçəsi II Yekaterina ilə bağlıdır?**

- ə) Bolqarıstanın azad edilməsi;
- ğ) Reç Pospolitanın bölüşdürülməsi;
- ç) Finlandiyanın işğal edilməsi;
- q) Avstriyanın məğlub edilməsi.

(1) 17. XVIII əsrin 90-cı illərində general Bonapartın yüksəlməsinə digər səbəblərlə yanaşı, nə kömək etdi?

ə) Royalistlərin Vandeyadakı üsyanının yatırılması;

ə) Yena döyüşündə qazanılan qələbə;

ə) Elzas və Lotaringiya əyalətlərinin qaytarılması;

ə) Şimali İtaliyaya uğurlu yürüş.

(1) **18. XIX əsrin 60-cı illərində Gürcüstanda təhkimçilik hüququ ləğv edildikdən sonra torpaq hansı şərtlə kəndlilərə veriləcəkdə?**

- ə) Təmənnasız, bunun əvəzində isə mülkədarın torpağında da işləməli idi;
- ə) Hədiyyə verilirdi, həmçinin hər cür mükəlləfiyyətdən azad olacaqdı;
- ç) Satın alacaqdı, ona qədər isə müvəqqəti olaraq borclu sayılacaqdı;
- ç) Şərik olacaqdı, mülkədarla birlikdə torpağın sahibi olacaqdı.

(1) 19. 1919-cu ildə Batumidə mövcud olan vəziyyətlə bağlı hansı mülahizə doğrudur?

ə) Şəhərdə Britaniya ordusunun hissələri yerləşirdi. Onlara general-qubernator vəzifəsini tutan britaniyalı general Kuk-Kolis başçılıq edirdi;

ə) Şəhərdə ilk öncə Osmanlı ordusu yerləşirdi, lakin general Mazniaşvili onları çıxardı və idarəni yerli özünüidarə orqanlarına verdi;

ə) Birinci Dünya müharibəsində məğlub olduqdan sonra alman ordusu şəhəri tərk etdi və idarə Gürcüstanın Müəssislər Məclisi tərəfindən təyin edilmiş general-qubernatora, Beniya Çxikvişviliyə verildi;

ə) Mudros barışığının şərtlərinə görə Batumi azad şəhər elan edildi və olaraq Millətlər Cəmiyyətinin mandatına malik olan Fransa ali komissarı Abel Şevalye onun hakimi təyin edildi.

(1) **20. Almaniya hökumətinin hansı qərarı Versal müqaviləsinin şərtlərini pozurdu?**

- ə) Dansiqin azad şəhər elan edilməsi;
- ğ) Reyn hərbsizləşdirilmiş zonasına qoşunların yeridilməsi;
- g) Reyxprezident vəzifəsinin təsis edilməsi;
- q) Reyxsverin bundesverə çevrilməsi;

(1) 21. Almaniyanın hərbi rəhbərliyi tərəfindən işlənmiş “Edelveys” planı 1942-ci ildə hansı bölgənin işğalını nəzərdə tuturdu?

ə) Kırım yarımadasının;

ə) Qafqazın;

ə) Mərkəzi Rusiyanın;

ə) Baltikyanı ərazinin.

(1) **22. Mixail Qorbaçov tərəfindən başadılan “yenidənqurma” hansı məqsədi daşıyırdı?**

- ə) İdarəetmə sisteminin radikal şəkildə dəyişdirilməsi, müttəfiq respublikaların hüquqlarının genişləndirilməsi və bununla da mövcud siyasi böhranın aradan qaldırılması;
- ğ) Kommunist partiyasının sosial-demokrat tipli təşkilata çevrilməsi və Sovetlərin rolunun artırılması, bu da SSRİ-nin saxlanılmasını təmin etməli idi;
- ç) Konstitusiyaya əsasən muxtar respublikaların hüquqi baxımdan müttəfiq respublikalarla bərabərləşdirilməsi və bu yolla sovet dövlətinin saxlanılması tərəfdarlarının gücləndirilməsi;
- ç) Dövlətin mövcudluğunun əsas prinsiplərinə zidd olmayan siyasi və iqtisadi islahatlar vasitəsilə SSRİ-nin mövcudluğunun uzadılması.

23-26 №-li tapşırıqlar üçün təlimat

Tarixi hadisələri və şəxsiyyətləri xronoloji ardıcılıqla düzün. Cavabları cavab vərəqində verilmiş xanalarda yazın.

Nəzərə alın ki, xanada yalnız qeyd olunmuş hadisəyə və ya şəxsiyyətə uyğun olan rəqəm yazılmalıdır. Birinci xanada ən əvvəl baş verən hadisənin və ya şəxsiyyətin qeyd olunduğu rəqəm yazılmalıdır və s. Müvafiq olaraq, sonuncu, üçüncü xanada ən gec baş verən hadisənin və ya şəxsiyyətin qeyd olunduğu rəqəm yazılmalıdır. Hər tapşırıq 1 balla qiymətləndirilir.

(1) **23. Assuriya dövləti ilə bağlı hadisələri xronoloji ardıcılıqla düzün.**

1. Aşşurbanipal tərəfindən Nineviyada kitabxananın yaradılması
2. I Tiqlatpalasarın Nairi ölkəsinə yürüşü
3. II Sarqon tərəfindən Dur- Şarrukinin inşa edilməsi

(1) **24. Müqəddəs Roma İmperiyasını idarə edən sülalələri onların fəaliyyət göstərdiyi vaxtlara əsasən xronoloji ardıcılıqla düzün.**

1. Habsburqlar

2. Hohenştaufenlər

3. Saksonlar

(1) **25. Orta əsrlərin memarlıq abidələrini onların tikildiyi vaxta əsasən xronoloji ardıcılıqla düzün.**

1. Paris Notr-Dam Kilsəsi
2. Aafen yaxud İmperiya Kilsəsi
3. Konstantinopolda Ayasofiya məbədi

(1) **26. XVIII əsrdə Gürcüstanda baş vermiş hadisələri xronoloji ardıcılıqla göstərin.**

1. Givi Amilaxvarinin başçılığı ilə üsyan
2. Paata Batonişvilinin və onun tərəfdarlarının sui-qəsdini
3. Kaxlar çarı Konstantin tərəfindən Tiflisin alınması


27 №-li tapşırıq üçün təlimat.

Şagirdə xəritə verilib. O öz biliyindən və xəritədə olan məlumatdan istifadə edərək verilən suallara cavab verməli idi.

Şagirdin cavablardan dördü (4) səhvdir.

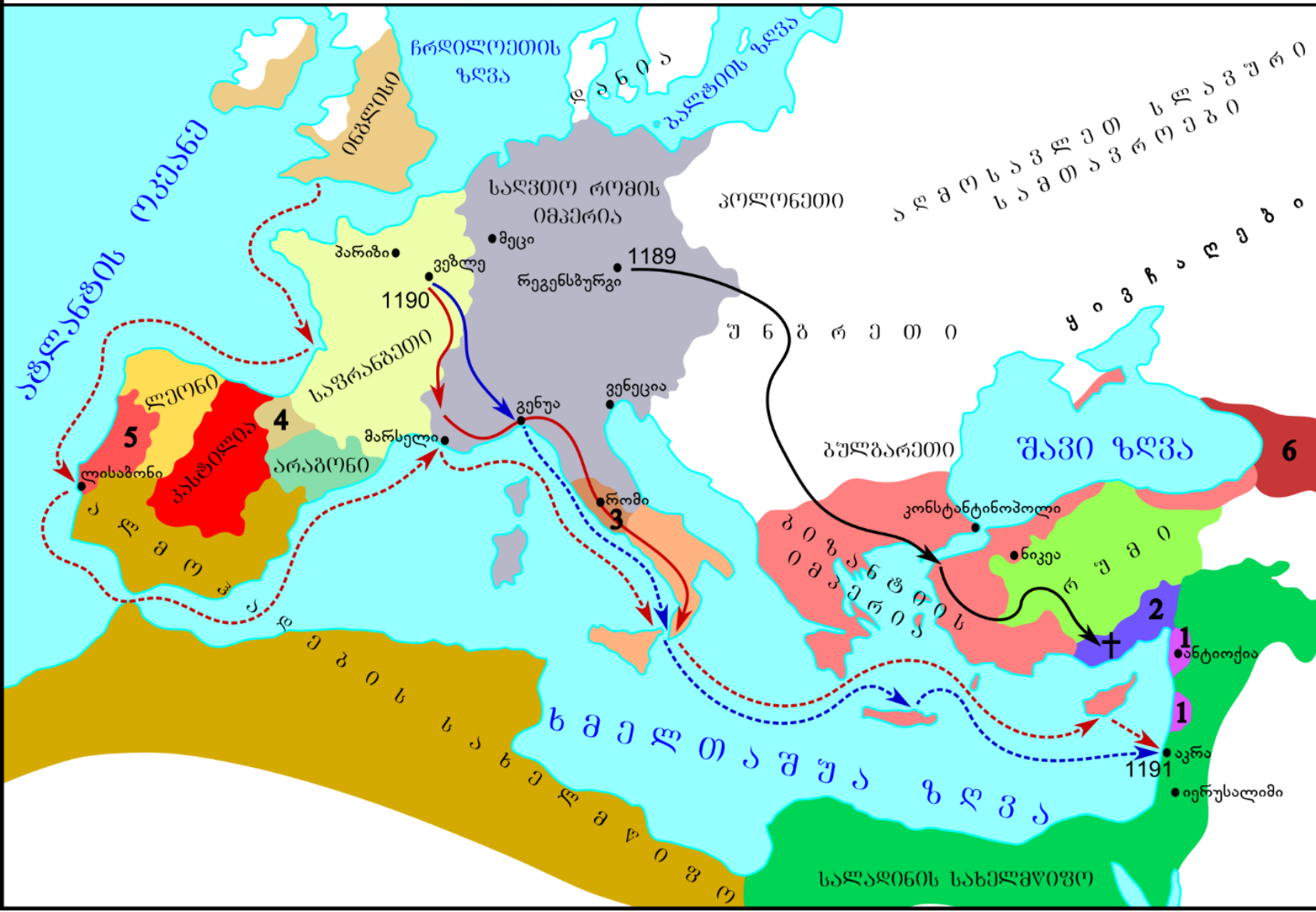
Siz səhvlərin dördünü də tapmalı, onları cavablar vərəqinin müvafiq xanasına yazmalı və elə oradaca düzgün cavabı qeyd etməlisiniz. Tapşırıq maksimum 4 balla qiymətləndirilir.

Tapşırıq 27. Xəritə və suallara növbəti səhifədə baxın



რუმის პირობითი აღნიშვნები

- ქალაქი
- ფრიდრიხ I-ის გადაადგილების მიმართულება
- რიჩარდ I-ის გადაადგილების მიმართულება
- ფილიპე II-ის გადაადგილების მიმართულება
- ინგლისელთა ფლოტის გადაადგილების მიმართულება
- ფრანგთა ფლოტის გადაადგილების მიმართულება
- ✚ ფრიდრიხ I-ის დაღუპვის ადგილი
- 1 ჯვაროსანთა სახელმწიფოები
- 2 კილიკია
- 3 რომის პაპის ოლქი
- 4 ნავარა
- 5 პორტუგალია
- 6 საქართველო



[Suallara növbəti səhifədə baxın](#)

Şagirdə verilən suallar:

27.1. Təqdim olunmuş xəritədə əks olunan tarixi hadisə necə adlanır?

27.2. Xəritəyə əsasən, qeyd olunan yürüşdə iştirak edən iki ordu qəti olaraq hansı şəhər yaxınlığında birləşib?

27.3. Xəritəyə əsasən, qeyd olunan yürüşün əleyhinə yönəldildiyi dövlət necə adlanır?

27.4. Xəritəyə əsasən izah edin, tarixlərdən başqa, Pireney yarımadasında rekonkistanın hələ də başa çatmadığını, tarixlərdən başqa, hansı məlumat göstərir?

27.5. Xəritəyə əsasən, qeyd olunan yürüşlərin hansı dövlətlərdən başladığını tam şəkildə sadalayın.

27.6. Xəritəyə əsasən, Bizans imperiyası ərazisindən keçən yürüş hansı dövlətdə vaxtından əvvəl başa çatıb və xəritədə göstərilən hansı fakt buna səbəb olub?

Şagirdin cavabları:

27.1. Üçüncü Səlib yürüşü

27.2. Genuya yaxınlığında

27.3. Səlahəddinin dövləti

27.4. Navarra və Kastiliya krallıqları hələ birləşməyib


27.5. Müqəddəs Roma İmperiyası, Fransa, Portuqaliya

27.6. Kilikiyada. Döyüşdəki məğlubiyyət

28 №-li tapşırıq üçün təlimat

İllüstrasiyada verilmiş məlumatı diqqətlə təhlil edin və suallara cavab verin. Nəzərə alın ki, hər üç illüstrasiya bir tarixi prosesin üç epizodunu əks etdirir. Cavabları cavab vərəqinin müvafiq yerinə yazın. Tapşırıq maksimum 7 balla qiymətləndirilir.

Tapşırıq 28. İllustrasiyalara və suallara növbəti səhifələrdə baxın





N1



N2



N3

Hər üç illüstrasiya bir tarixi şəxs haqqındadır

Suallara növbəti səhifədə baxın

Suallar:

- (2) **28.1.** Hansı deyim N1 illustrasiyada təsvir olunan konkret tarixi faktla əlaqəlidir və onu əmələ gətirən səbəb nə idi?
- (2) **28.2.** N2 illustrasiyada göstərilən qətlin baş verdiyi dövlətin adını qeyd edin. İllustrasiyada verilmiş hansı konkret məlumat Sizin cavabınızı təsdiq edir?
- (2) **28.3.** N3 illustrasiyada təsvir olunan tarixi hadisəyə nə səbəb oldu və bu tarixi hadisədən sonra dövlətdə hansı konkret dəyişiklik baş verdi?
- (1) **28.4.** Hər üç illüstrasiyadan istifadə edəcəyiniz bir konkret dərş mövzusunun başlığını qeyd edin.

29 №li tapşırıq üçün təlimat. Aşağıda verilmiş tarixi sənədi diqqətlə oxuyun, mətni dərk edin və suallara cavab verin. Cavabları cavablar vərəqinin müvafiq yerinə yazın. Tapşırıq maksimum 18 balla qiymətləndirilir.

Tapşırıq 29. Tarixi sənədə və suallara növbəti səhifələrdə baxın



General Aleksandr Zakariadzenin məktubu

Bu məktubda mən onu etibarlı bir adamın əli ilə göndərdiyimə görə bəzi məsələlərə açıq şəkildə toxunacağam. Siz bu məktubu ya məhv edəcəksiniz, ya da bildiyiniz kimi saxlayacaqsınız. Polkovnikin mənə dediği kimi, siz onunla aşağıdakıları qərarlaşdırmısınız:

1) Hələlik Gürcüstana bir nəfər tam etibarlı və mötəbər şəxs göndərilsin. Bu adam təkcə bizim hazırladığımız bütün planlarla tanış olmamalıdır, həm də hərbi ixtisas üzrə elə hazırlanmalıdır ki, oraya rəhbərlik edə bilsin. Bununla bağlı o, hər cür əlavə təlimatı burada məndən alacaqdır. Ancaq siyasi-diplomatik tərəfə gəlincə, o, hökumətin və bilavasitə sizin, orada isə yerli siyasi təşkilatların əlində olacaq. O, o qədər etibarlı və hazırlıqlı olmalıdır ki, müstəqil də hərəkət edə bilsin, çünki, vaxtaşırı bizimlə əlaqəsi kəsilə bilər.

Suallara keçid: [1](#) [2](#) [3](#) [4](#) [5](#) [6](#) [7](#) [8](#) [9](#) [10](#) [11](#) [12](#)

Beləliklə, belə bir insanı seçməyin nə qədər mühim olduğu sizə aydın olur.

2) Onunla və onun vasitəsilə oradakı digər təşkilatlarla daimi etibarlı əlaqə təşkil olunsun. Biz burada bu məsələ üzərində işləyirik və o adamı gözləyirik. O, burada uzun müddət qalmalı olacaq. Biz burada onun qeydinə qalacağıq, buna görə heç narahat olmayın. Siz onu siyasi cəhətdən hazırlayacaqsınız, hərbi-texniki təlimi isə bizim yanımızda keçəcək. Qar yağana qədər biz burada onu gözləyirdik. İndi bir az gecdir, lakin göndərməyi daha çox gecikdirməyin. O burada nə qədər çox qalarsa, bir o qədər də yaxşıdır.

Bunun orada Gürcüstandakı hökumətin və sizin nüfuzunuz üçün nə qədər önəmli olması üzərində dayanmaq istəmirəm.

Onu da əlavə edək ki, Rusiyada anarxiya anı yaxınlaşır. Burada belə xəbərlər var.

Mətnin davamına növbəti səhifədə baxın

Siz çox pulu tələb edirsiniz və bu, maneə yarada bilər. Xüsusən də bu günlərdə Şetsel gedə bilər, bu indi aydın olacaq. Bu faktın məsələmizə maneə olacağını düşünməyin. Oradakı işlərə də çox diqqət yetirirlər. Bu, bir tərəfdən etibarlı insanların eyni cür ilkin hazırlığı, digər tərəfdən isə gələcək mübarizəmizdə istifadə oluna biləcək daha geniş dairənin yekun hazırlığı kimi olmalıdır.

Hər cür adam var, hamısını, təbii ki, etibarlı olanları, tanıyıb özlərinə uyğun yerlərdə istifadə etməliyik. Siz bunu məndən daha yaxşı bilirsiniz. Yalnız bir şey xahiş edirəm, gələnlərə rəhbərlik edin.

Zabit Matikaşvili uzun müddət orada qalacaq. O etibarlı və istedadlı oğlandır, onu tanıyacaq və razı qalacaqsınız. O, hələlik Gürcüstandakı işlər haqqında geniş və ətraflı bilməməlidir. İranda bizdən kimsə varsa, mənə xəbər verin. Biz burada bu məsələ üzərində işləyirik.

Suallara keçid: [1](#) [2](#) [3](#) [4](#) [5](#) [6](#) [7](#) [8](#) [9](#) [10](#) [11](#) [12](#)

Yalnız mənim bilməli olduğum hər hansı bir sualınız varsa, ya şifrəli, ya da polşalılar vasitəsilə mənim ünvanıma yazın. Bir də kimə deyib, kimə deyə bilməyəcəyimlə bağlı məni xəbərdar edin. Mən burada polşalılar və bizim nümayəndəmizi nəzərdə tuturam.

Yalnız polkovnik Tevzadze qayıdıandan sonra bu işlərdə ondan kömək ala bilərəm. Bleşçinski bir neçə günlük burada, Varşavada, idi. Onunla görüşdüm. Onu üç məsələ maraqlandırır.

- 1) Siz tərəfdə, Parisdə bu məsələ ilə bağlı kiminlə daimi ünsiyyətdə olsun? Kiminlə əlaqədə olmaq arzusunu dilə gətirib. Bu sual məni dərinlən təəccübləndirdi. Mən ona cavab verdim ki, yalnız sizinlə və əgər orada olmasanız, o zaman cənab Yevgeni Geqeçkori ilə. Siz mənə belə yazmışdınız, mən də belə dedim.

[Mətnin davamına növbəti səhifədə baxın](#)

2) O dedi ki, qoy fransızlar düşünməsinlər ki, bu, bolşeviklərin etdiyi bir şeydir. Mən cavab verdim ki, Fransa hökuməti ilə bu cür şübhələri aradan qaldırmaq üçün kifayət qədər əlaqəniz var, mən ondan yalnız bu məsələdə dəstək olmasını xahiş etdim.

3) O dedi ki, Bolşeviklər eşitməsin. Mən də cavab verdim ki, siz bununla bağlı, heç bir təxribatçının bizim dairəyə girməməsi üçün, tədbir görəcəksiniz.

Suallara keçid: [1](#) [2](#) [3](#) [4](#) [5](#) [6](#) [7](#) [8](#) [9](#) [10](#) [11](#) [12](#)

Oraya böyük adamların sirdaşı, baş nazirin adyutantı Zavilsovski gəlir. O, hər şeyi bilir. Polkovnik Tevzadze sizi onunla tanış edəcək. Onunla sıx əlaqə saxlayın. O, nüfuzlu və etimad göstərilən bir insandır. General Aleksandr Çxeidzedən hələ ki, rəsmi cavab almamışam. Daha doğrusu, məncə, o imtina edir. Vaxtında məlumat verəcəyəm. Sənədləri yaxşı yerdə saxlamışam.

Dərin hörmətlə, General Aleksandr Zakariadze.

Suallara növbəti səhifələrdə baxın

Gürcüstanın tarixi arxivindən sənəd F. 2130, 1, 74, səh.4

Suallar:

- (1) **29.1.** Məktubun müəllifi hansı dövlətdədir və məktubda olan hansı məlumat sizin cavabınızı təsdiqləyir?
- (1) **29.2.** Sənədə əsasən, Gürcüstana göndərilən adam niyə müstəqil hərəkətlərə hazır olmalıdır?
- (1) **29.3.** Sizin fikrinizcə, seçilən şəxsin general Zakariadze ilə “uzun müddət qalması” nəyə görə lazımdır?
- (1) **29.4.** Sənədə əsasən, məktubun müəllifinin olduğu yerdə hansı dövlətlə əlaqəli və hansı məlumatlar yayılmışdır?
- (1) **29.5.** Sənədin müəllifi yazır ki, “ gələcək mübarizəmizdə istifadə oluna biləcək” insanların geniş dairəsi hazırlanmalıdır. Sizin fikrinizcə, gələcəkdə nə üçün mübarizə aparmalı idilər?

Sənəd mətninin [1-ci səhifəsinə](#) keçid

Sənəd mətninin [2-ci səhifəsinə](#) keçid

Sənəd mətninin [3-cü səhifəsinə](#) keçid

- (1) **29.6.** Məktubun müəllifi yazır ki, “İranda bizdən kimsə varsa, mənə bildir”. Aleksandr Zakariadzenin haqqında yazdığı işdə İranın özündən nə dərəcədə istifadə etmək olardı? Fikrinizi dəstəkləmək üçün argument gətirin.
- (2) **29.7.** Sənədə əsasən, məktubun ünvanlandığı şəxs və onun yoldaşları böyük miqdarda nə tələb edirlər və Sizin fikrinizcə, bu, nə üçün maneə yaradacaq? Fikrinizi dəstəkləmək üçün bir argument gətirin.
- (2) **29.8.** Sənədə əsasən, məktubun ünvanlandığı şəxsin yanında uzun müddət ərzində kim qalacaq və o, heç olmasa “hələlik” nəyi bilməməlidir və Sizcə, nə üçün?
- (2) **29.9.** Sənədə əsasən, Zavilsovski hansı vəzifəni tutub və Sizin fikrinizcə, onunla sıx münasibət qurmaq nəyə görə lazım idi?

Sənəd mətninin [1-ci səhifəsinə](#) keçid

Sənəd mətninin [2-ci səhifəsinə](#) keçid

Sənəd mətninin [3-cü səhifəsinə](#) keçid

(2) **29.10.** Sənədə əsasən, məktubun ünvanlandığı şəxs, lazım gələrsə, general Zakariadzeyə hansı vasitələrlə cavab məktubu yazmalıydı?

(2) **29.11.** Sənədə əsasən, fransızların “bolşeviklərin etdiyi bir şey” olmadığına dair şübhələrini aradan qaldırmalı olanları tam şəkildə sadalayın.

(2) **29.12.** Aleksandr Zakariadzenin fikrincə, kim “məncə imtina” edir və, Sizin fikrinizcə, nədə iştirak etməkdən?

Sənəd mətninin [1-ci səhifəsinə](#) keçid

Sənəd mətninin [2-ci səhifəsinə](#) keçid

Sənəd mətninin [3-cü səhifəsinə](#) keçid